



Guía de Historia Geografía Y Ciencias Sociales

Meta:

Reconocer y describir la función de distintas instituciones y quienes trabajan en ellas.

Nombre: _____ curso: 4° _____


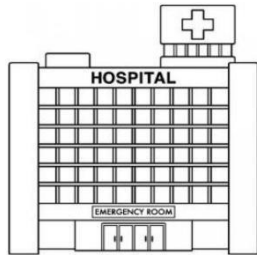

1. Todas las instituciones tienen una labor muy importante dentro de la comunidad. Observa los dibujos y escribe el nombre de la institución que cumple la función observada.




2. Dibuja la labor que cumplen las siguientes instituciones:

A large, empty rounded rectangular box intended for drawing the labor of the police.A large, empty rounded rectangular box intended for drawing the labor of the firefighters.A large, empty rounded rectangular box intended for drawing the labor of the municipality.

3. ¿Quiénes trabajan en las siguientes instituciones? Únelos con diferentes lápices de colores.



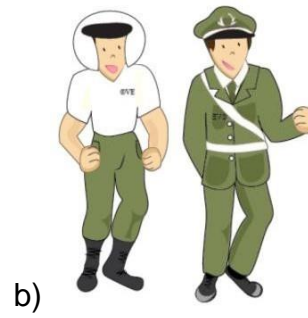


Encierra en una circunferencia la alternativa correcta.

1. Las instituciones son:
 - a) Organizaciones de índole social y cooperativa y están al servicio de las personas.
 - b) Organizaciones de carácter privado que se financian mediante colectas y aporte de los socios.
2. Las instituciones públicas reciben aportes
 - a) Del Estado
 - b) De socios y particulares
3. La función que cumple el _____ es la de entregar asistencia médica a las personas que lo necesitan. La palabra que falta es:
 - a) Bomberos
 - b) Hospital
4. Esta institución se encarga de mantener el orden público y la seguridad de los ciudadanos.
 - a) Biblioteca
 - b) Carabineros
5. Es la encargada de la educación de niños y niñas.



6. En el hospital trabajan:



7. ¡Al vecino se le está quemando la casa! ¿A quién debo llamar?

